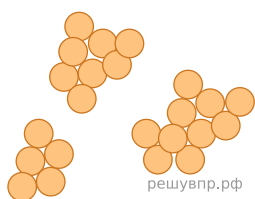


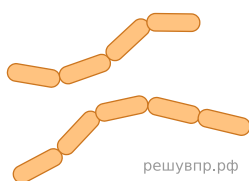
Рассмотрите изображения шести представителей мира бактерий. Предложите основание, согласно которому эти бактерии можно разделить на две группы по три представителя в каждой.



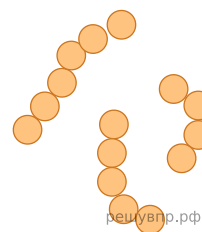
Стрептококк



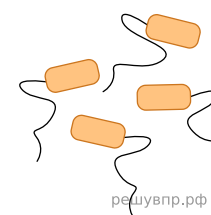
Диплококк



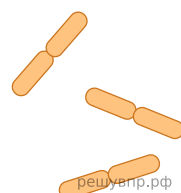
Цепочки палочек



Стафилококк



Палочки с жгутиками



Диплобациллы

Заполните таблицу: запишите в неё основание, по которому были разделены бактерии, общее название для каждой группы растений и перечислите бактерий, которые вы отнесли к этой группе.

Номер группы	Какое основание позволило разделить бактерии?	Как называется данная группа бактерий?	Какие бактерии относятся к данной группе?
Группа 1			
Группа 2			