



Три из изображённых объектов объединены общим признаком. Выпишите название объекта, «выпадающего» из общего ряда. Объясните свой выбор.



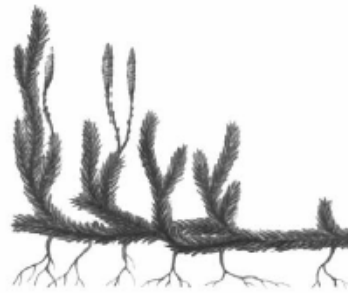
A. _____



Б. _____



В. _____



Г. _____

РЕШУ ВПР.РФ