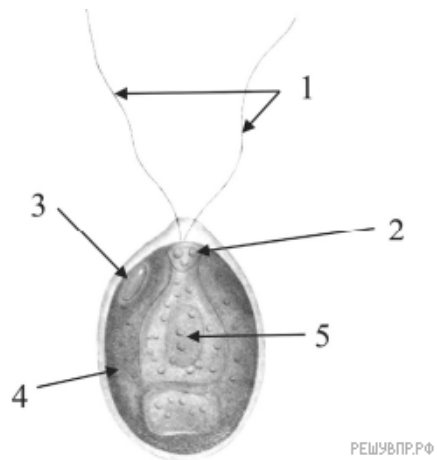
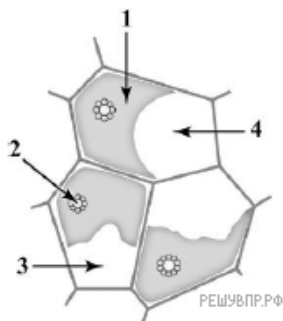


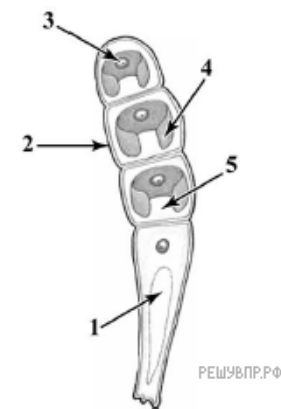
1. Напишите название органоида, обозначенного на рисунке цифрой 4.



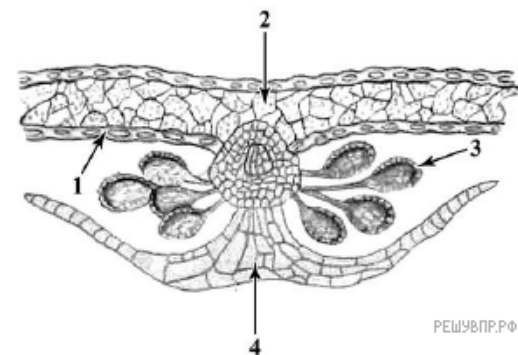
2. Напишите название органоида, обозначенного на рисунке цифрой 1.



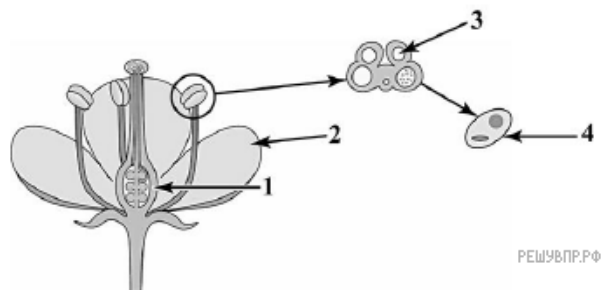
3. Напишите название органоида, обозначенного на рисунке цифрой 3.



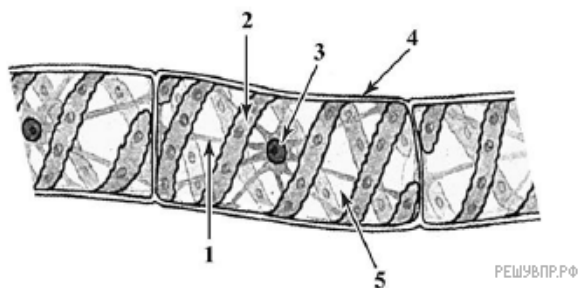
4. Напишите название структуры папоротника, обозначенной на рисунке цифрой 3.



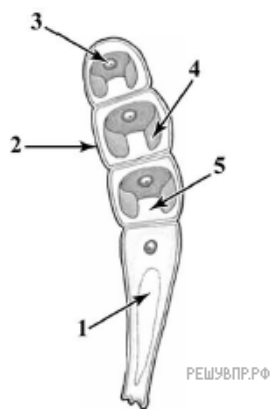
5. Напишите название структуры, обозначенной на рисунке цифрой 1.



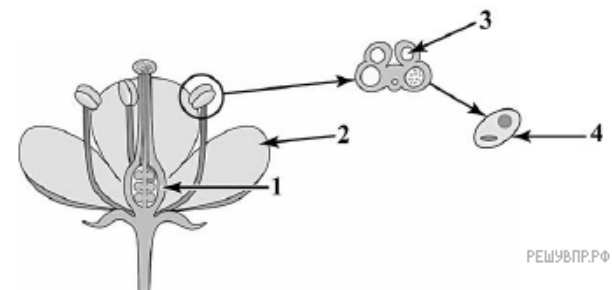
6. Напишите название органоида, обозначенного на рисунке цифрой 3.



7. Напишите название органоида, обозначенного на рисунке цифрой 4.



8. Напишите название структуры, обозначенной на рисунке цифрой 3.



9. Напишите название органоидов, обозначенных на рисунке цифрой 2.

