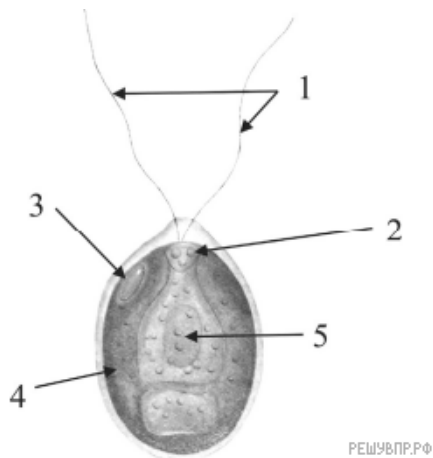
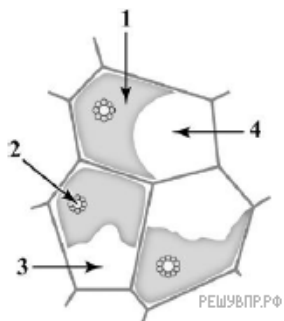


1. Какую функцию выполняет органоид, обозначенный на рисунке цифрой 4?



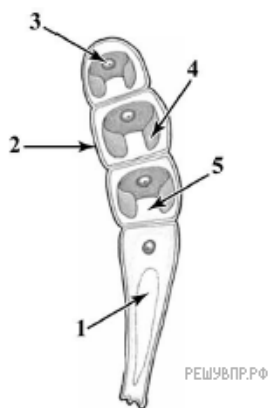
РЕШУ ВПР.РФ

2. Какую функцию он выполняет?



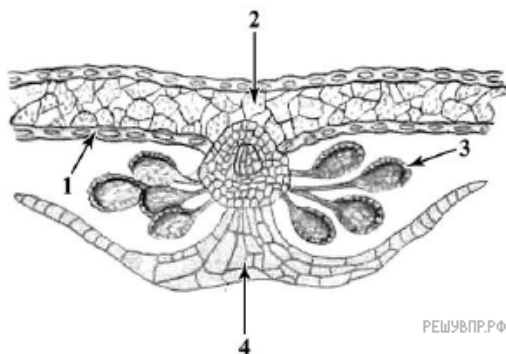
РЕШУ ВПР.РФ

3. Какую функцию он выполняет?



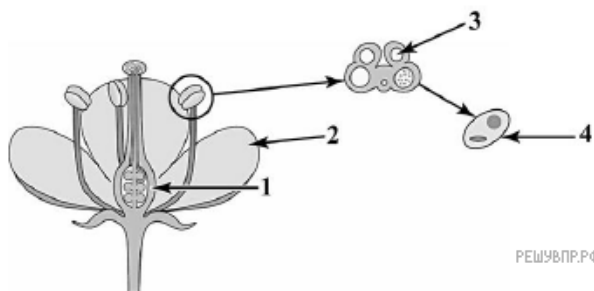
РЕШУ ВПР.РФ

4. Какую функцию она выполняет?

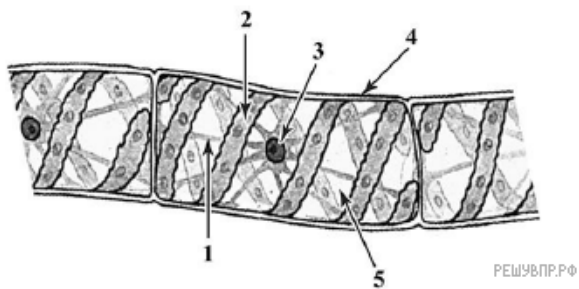


РЕШУ ВПР.РФ

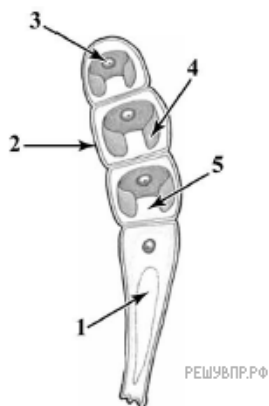
5. Какую функцию она выполняет?



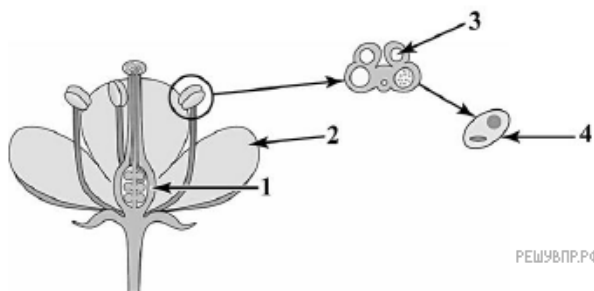
6. Какую функцию он выполняет?



7. Какую функцию он выполняет?



8. Какую функцию она выполняет?



9. Какую функцию они выполняют?

