

Рассмотрите изображение Чины луговой и выполните задания.



1. Выберите из приведённого, ниже списка растения, принадлежащие к тому же семейству, что и Чина луговая. Какие из них дикорастущие, а какие культурные?
Запишите в ответе цифры в соответствующие ячейки таблицы.

Список растений:

- 1) соя
- 2) акация
- 3) пижма
- 4) клевер
- 5) кошачья лапка
- 6) арахис
- 7) василек
- 8) фасоль

Представители семейства	Дикорастущие виды	Культурные растения

Рассмотрите изображение Лилии саранки и выполните задания.



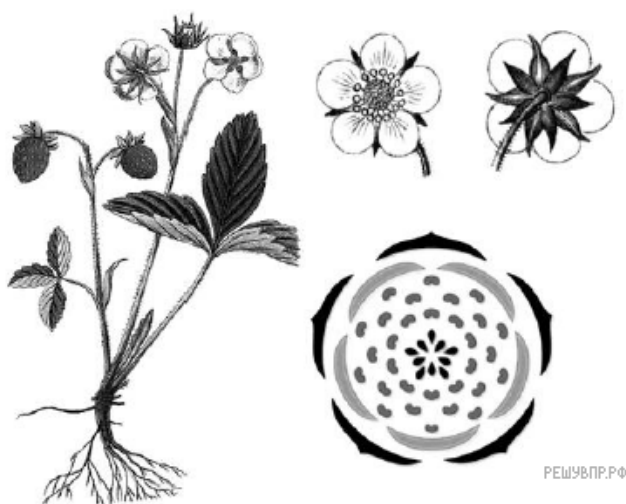
2. Выберите из приведённого, ниже списка растения, принадлежащие к тому же семейству, что и Лилия саранка. Какие из них дикорастущие, а какие культурные? Запишите в ответе цифры в соответствующие ячейки таблицы.

Список растений:

- 1) подсолнечник
- 2) рябчик шахматный
- 3) кандык сибирский
- 4) тюльпан махровый
- 5) гиацинт
- 6) нивяник

Представители семейства	Дикорастущие виды	Культурные растения
<input type="text"/>	<input type="text"/>	<input type="text"/>

Рассмотрите изображение Земляники лесной и выполните задания.



3. Выберите из приведённого, ниже списка растения, принадлежащие к тому же семейству, что и Земляника лесная. Какие из них дикорастущие, а какие культурные? Запишите в ответе цифры в соответствующие ячейки таблицы.

Список растений:

- 1) ландыш
- 2) лапчатка
- 3) черёмуха
- 4) вишня
- 5) василёк
- 6) груша

Представители семейства	Дикорастущие виды	Культурные растения
<input type="text"/>	<input type="text"/>	<input type="text"/>

Рассмотрите изображение Василька синего и выполните задания.



4. Выберите из приведённого, ниже списка растения, принадлежащие к тому же семейству, что и Василёк синий. Какие из них дикорастущие, а какие культурные?
Запишите в ответе цифры в соответствующие ячейки таблицы.

Список растений:

- 1) подсолнечник
- 2) осот
- 3) ландыш
- 4) горчица
- 5) астра
- 6) нивяник

Представители семейства	Дикорастущие виды	Культурные растения
<input type="text"/>	<input type="text"/>	<input type="text"/>

Рассмотрите изображение Физалиса обыкновенного и выполните задания.



5. Выберите из приведённого, ниже списка растения, принадлежащие к тому же семейству, что и Физалис обыкновенный. Какие из них дикорастущие, а какие культурные? Запишите в ответе цифры в соответствующие ячейки таблицы.

Список растений:

- 1) паслён чёрный
- 2) ландыш
- 3) паслён красный
- 4) картофель
- 5) мать-и-мачеха
- 6) томат

Представители семейства	Дикорастущие виды	Культурные растения

Рассмотрите изображение Ржи посевной и выполните задания.



6. Выберите из приведённого, ниже списка растения, принадлежащие к тому же семейству, что и Рожь посевная. Какие из них дикорастущие, а какие культурные?


Запишите в ответе цифры в соответствующие ячейки таблицы.

Список растений:

- 1) земляника
- 2) рис
- 3) кукуруза
- 4) пырей
- 5) лапчатка
- 6) тимopheевка

Представители семейства	Дикорастущие виды	Культурные растения
<input type="text"/>	<input type="text"/>	<input type="text"/>

Рассмотрите изображение Капусты огородной и выполните задания.



7. Выберите из приведённого, ниже списка растения, принадлежащие к тому же семейству, что и Капуста огородная. Какие из них дикорастущие, а какие культурные?

Запишите в ответе цифры в соответствующие ячейки таблицы.

Список растений:

- 1) сурепка
- 2) пастушья сумка
- 3) салат
- 4) горчица
- 5) пижма
- 6) груша

Представители семейства	Дикорастущие виды	Культурные растения
<input type="text"/>	<input type="text"/>	<input type="text"/>

Рассмотрите изображение Гороха посевного и выполните задания.



РЕШУВПР.РФ

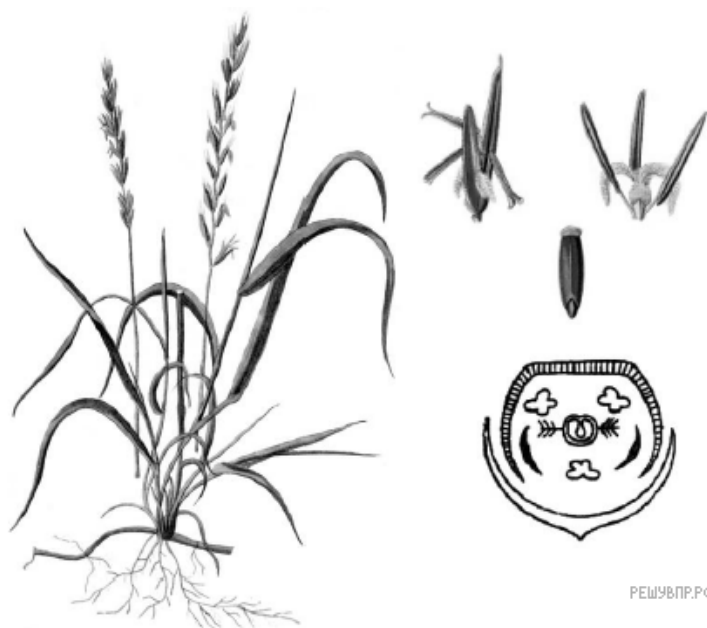
8. Выберите из приведённого, ниже списка растения, принадлежащие к тому же семейству, что и Горох посевной. Какие из них дикорастущие, а какие используются в пищу? Запишите в ответе цифры в соответствующие ячейки таблицы.

Список растений:

- 1) одуванчик
- 2) клевер
- 3) мать-и-мачеха
- 4) арахис
- 5) фасоль
- 6) донник

Представители семейства	Дикорастущие виды	Пищевые растения
<input type="text"/>	<input type="text"/>	<input type="text"/>

Рассмотрите изображение Пырея ползучего и выполните задания.



РЕШУВПР.РФ

9. Выберите из приведённого, ниже списка растения, принадлежащие к тому же семейству, что и Пырей ползучий. Какие из них дикорастущие, а какие культурные?

Запишите в ответе цифры в соответствующие ячейки таблицы.

Список растений:

- 1) рис
- 2) яблоня
- 3) слива
- 4) ковыль
- 5) рожь
- 6) мятлик

Представители семейства	Дикорастущие виды	Культурные растения
<input type="text"/>	<input type="text"/>	<input type="text"/>

Рассмотрите изображение Бодяка полевого и выполните задания.



РЕШУВПР.РФ

10. Выберите из приведённого, ниже списка растения, принадлежащие к тому же семейству, что и Бодяк полевой. Какие из них дикорастущие, а какие культурные?

Запишите в ответе цифры в соответствующие ячейки таблицы.

Список растений:

- 1) подсолнечник
- 2) василёк
- 3) ландыш
- 4) горчица
- 5) астра
- 6) нивяник

Представители семейства	Дикорастущие виды	Культурные растения
<input type="text"/>	<input type="text"/>	<input type="text"/>